

- 11) What is the opposite of 'bright'?
- A. Light
 - B. Narrow
 - C. Dull
 - D. Old
- 12) What is the masculine of 'aunt'?
- A. Gentlemen
 - B. Uncle
 - C. Father-in-law
 - D. Brother-in-law
- 13) They were determined to protect their piece of land at any cost'. The underline word is a/an:
- A. Article
 - B. Verb
 - C. Noun
 - D. Pronoun
- 14) 'I went to my medical man'. The underlined word means:
- A. Chemist
 - B. Biologist
 - C. Doctor
 - D. Teacher
- 15) Choose the correct spellings:
- A. Alaborate
 - B. Elabarate
 - C. Eleborate
 - D. Elaborate
- 16) 'The game was called off due to bad weather'. The underlined phrasal verb means:
- A. Cancelled
 - B. Re-started
 - C. Played
 - D. Enjoyed
- 17) The plural of 'lady' is:
- A. Women
 - B. Girls
 - C. Ladies
 - D. Lady doctors
- 18) 'A cow is a pet animal'. The underline word is a/an:
- A. Pronoun
 - B. Adjective
 - C. Adverb
 - D. Article
- 19) 'The well decorated stalls were visited more'. The underline word is a/an:
- A. Pronoun
 - B. Verb
 - C. Article
 - D. Noun
- 20) What is the opposite of 'rest'?
- A. Work
 - B. Sleep
 - C. Laugh
 - D. Run



ENGLISH COMPULSORY HSSC-II

(For Hearing Impaired Children)

Time allowed: 2:35 Hours

Total Marks Sections B and C: 80

NOTE: Sections 'B' and 'C' comprise pages 1-2 and questions therein are to be answered on the separately provided answer book. Answer all the questions from Section 'B' and Section 'C'. Write your answers neatly and legibly.

SECTION - B (Marks 40)

Q. 2 Attempt any FOUR of the following parts:

(4 x 4 = 16)

- (i) How is that a star seldom finds another star near it?
- (ii) We are now generally less fearful than our ancestors. What were our ancestors afraid of?
- (iii) What place would you accord to the sportsmen in college?
- (iv) What sort of books were presented by the British public to the soldiers?
- (v) Write five lines on Chinese agriculture system.
- (vi) How do famines occur?

Q. 3 Answer any TWO of the following parts:

(2 x 4 = 8)

- (i) What was the chief defect of antiseptic method?
- (ii) In what respect is penicillin better than the chemical antiseptics?
- (iii) Sum up in few sentences the work of Mustafa Kamal as a great leader.

Q. 4 Write down the meaning of any EIGHT of the following words in Urdu:

(08)

- | | | |
|--------------|-----------------|-----------------|
| (i) Universe | (ii) Prevention | (iii) Garbage |
| (iv) Ailment | (v) Hamper | (vi) Pangs |
| (vii) Census | (viii) Reveal | (ix) Provoke |
| (x) Lack | (xi) Disband | (xii) Elaborate |

Q. 5 Answer any ONE of the following questions:

(08)

- (i) Write a brief note on 'Katherine Bridges'.
- (ii) How did Chips happen to meet with Katherine Bridges?

SECTION - C (Marks 40)

Note: Attempt ALL the questions.

Q. 6 Write an essay on any ONE of the following topics:

(08)

- (i) Knowledge is Power
- (ii) My Country

Q. 7 Change any FOUR of the following into interrogative sentences:

(04)

- (i) Water should not be wasted.
- (ii) New roads are being constructed to link China with Gawadar port.
- (iii) Teacher punished the naughty boys.
- (iv) I am a good player of badminton.
- (v) We should obey our elders.
- (vi) The school management always organizes the annual sports event in the last week of September.
- (vii) I did not pass my examination.

Q. 8 Use suitable preposition (i.e. on, along, after, to, by, at) in any FOUR of the following sentences: (04)

- (i) The policeman was running _____ the thief.
- (ii) They are planning _____ visit Murree next week.
- (iii) Her uncle is coming from Karachi _____ air.
- (iv) The management committee meeting is scheduled _____ 11 o' clock.
- (v) She put _____ pink dress for the party.

Q. 9 Use the articles (a, an, the) in any FOUR of the following sentences: (04)

- (i) His father brought _____ nice car for him.
- (ii) Her mother is _____ school teacher.
- (iii) Imran was the chief editor in _____ Nation newspaper.
- (iv) Eating _____ apple a day is good for health.
- (v) Michel is _____ Irish player.

Q. 10 Change any FOUR of the following sentences into Passive voice: (04)

- (i) They are collecting donations for the new cancer hospital.
- (ii) Children watch cartoons on TV.
- (iii) I cleared the obstacles in record time.
- (iv) Mom read the novel in one day.
- (v) The maid will clean the house.
- (vi) Saleem painted the entire house.
- (vii) I washed the dishes.

Q. 11 Read the following paragraph and answer the questions given at the end: (08)

Alexander Fleming was born on August 6, 1881. He was the youngest child of his presents. His father died when he was seven years old. Alexander was then still going to village school. At ten he went to Darvel School and stayed till he was twelve. Afterwards, he went to Kilmarnock Academy. At fourteen he went to London and for the next two years he studied at the Regnet Street Polytechnic. He invented Penicillin and became reputed scientist.

Questions:

- (i) When was Alexander Fleming born?
- (ii) When did his father die?
- (iii) When did he go to London?
- (iv) How did Alexander Fleming become a reputed scientist?

Q. 12 Translate any EIGHT of the following sentences into English: (08)

- (i) کیا وہ کھانا کھا رہا ہے؟
- (ii) کیا علامہ اقبال ساگوت میں پیدا ہوئے؟
- (iii) وہ گاڑی چلا رہا تھا۔
- (iv) وہ صبح سے کام میں مصروف ہے۔
- (v) وہ دیر سے جماعت میں آئی ہیں۔
- (vi) پاکستان ترقی پذیر ملک ہے۔
- (vii) ہم اپنا سبق یاد کر رہے ہیں۔
- (viii) کراچی ایک صنعتی شہر ہے۔
- (ix) بس دیر سے آئی۔
- (x) کتاب مجھے اچھے اخلاق سکھاتی ہے۔

نوٹ: حصہ اول لازمی ہے۔ اس کے جوابات الگ سے مہکانی گنی اوائم آر (OMR) جو پلٹا کاپی پر دیں۔ اس کو پیلے پتھیں، منٹ میں مکمل کرنے کے تاہم مرنے کے حوالے کریں۔ گالت کر دوبارہ لکھنے کی اجازت نہیں۔ لپٹے پٹیل کا استعمال ممنوع ہے۔

سوال نمبر: مہکانی گنی اوائم آر (OMR) جو پلٹا کاپی پر دیں گنی ہدایات کے مطابق ہر سوال کا درست جواب A/B/C/D منتخب کر کے متعلقہ دائرہ (Bubble) پر کریں۔ ہر دائرہ کا ایک نمبر ہے۔

- (1) نبوت کے کون سے سال اکثر صحابہ مدینہ منورہ پہنچے تھے؟
A دسویں B گیارہویں C بارہویں D تیرہویں
- (2) ہجرت مدینہ سے دو دن پہلے رسول اللہ ﷺ خاتم النبیین کس کے گھر تشریف لے گئے؟
A حضرت عمرؓ B حضرت ابو بکرؓ C حضرت عثمانؓ D حضرت علیؓ
- (3) انسان نے لکھنا پڑھنا کب سیکھا؟
A دو ہزار سال پہلے B تین ہزار سال پہلے C پانچ ہزار سال پہلے D دس ہزار سال پہلے
- (4) انطاطون نے ماسس کے فروغ کے لیے 387 ق م میں کس قوم سے ایک بڑی درگاہ قائم کر رکھی تھی؟
A اکیلیی B لاکسم C سکول D کالج
- (5) توہر انصوح کس کا ناول ہے؟
A محمد حسین آزاد B مولوی نذیر امرو C علامہ رسول مہر D سید قطیب علی شاہ
- (6) پچاس برس کی تحریریں کس کے متعلق معلومات فراہم کرتی ہیں؟
A شہاداد B فرورد C فرعون D سمرنا
- (7) مرزا کلیم کے لیے کیا ہجو لاکرا ہے؟
A مرغ B بھل C مکی D پتے
- (8) شہزادہ نور الدین کس بادشاہ کا ولی عہد تھا؟
A شہنشاہ اکبر B شہنشاہ جہانگیر C شہنشاہ اورنگ زیب D شہنشاہ شاہجہاں
- (9) مصنف نے کتنا کتب تیار کیا؟ (سقیق۔ دادلی ہنزہ کا چوتھا ناول)
A راستے میں B کریم آباد پہنچنے کے بعد C گھر سے نکلے ہوئے D پہاڑ کی چوٹی پہنچنے کے بعد
- (10) پرنس آفٹان کی تاج پوشی کی ساگر کے لیے کہاں پر انٹان ہوا ہے؟
A گلگت B سکرد C پانچ پتھر D دادلی ہنزہ
- (11) مولانا ظفر خان سے مصنف کی کئی ملاقات کہاں ہوئی؟
A گلگت B دہلی C لاہور D کہیں
- (12) جب اردو نوجوڑی نئی تو مولوی محمد علی نے اس کے لیے کیا کام کیا؟
A اہل معاشرت کی B اساتذہ فراہم کیے C دارالترجمہ تعمیر کرائی D نئی عمارت تعمیر کرائی
- (13) مولوی محمد علی کی ایک بڑی خوبی یہ تھی کہ وہ...
A ترجمہ بہت عمدہ کرتے تھے B خطبہ اچھا دیتے تھے C خطاط بہت اچھے تھے D طنز و مزاح میں لاجواب تھے
- (14) مصنف دوسری قسط میں کس کے ہمراہ پہلی مرتبہ ہنزہ آیا تھا؟
A اپنے دوستوں کے ہمراہ B اپنی اہلیہ کے ہمراہ C لپٹے بڑے بچے کے ہمراہ D لپٹے چھوٹے بچے کے ہمراہ
- (15) ”آپ بہت اچھی اردو بولتے ہیں۔“ یہ بات مصنف نے کس سے کہی؟
A محمد علی سے B انگریز سیال سے C ہونٹ کے مالک سے D نقاشی صاحب سے
- (16) ڈاکٹر علامہ اقبال نے جاوید اور یاقوتی تربیت کے لیے کس کی خدمات حاصل کی تھیں؟
A چیمپی نائن کی B بزم خاقان کی C پنجابی خاتون کی D پارس خاتون کی
- (17) وہ کون سے شاعر تھے جو شعر کہنے تو حصہ نہ لیتے تھے؟
A غالب B سیر C اقبال D ظفر علی خان
- (18) ڈراما نگار کس کی تصنیف ہے؟
A مولوی نذیر امرو B مستنصر حسین تارڑ C سید امتیاز علی شاہ D چراغ حسن حسرت
- (19) نظم ”آزادی کے شاعر کون ہیں؟“
A جوش ملیح آبادی B احسان دانش C علامہ اقبال D میر درد
- (20) ”نظم ریل کا مسٹر میں بنار آفتخدا ان کس کو کہا گیا ہے؟“
A حد تک B ریل کے انجن کو C موسم خنک کو D چارپائی کو

اردو (لازمی) ایچ ایس ایس سی - II
(برائے اطفال محروم سماعت و گویشی)



کل نمبر حصہ دوم اور سوم: 80

وقت: 2:35 گھنٹے

حصہ دوم (کل نمبر 48)

(12 x 4 = 48)

سوال نمبر ۲:

مندرجہ ذیل ازادہ میں سے بارہ (12) کے متن سے چار سطروں میں جواب لکھیں:

- (i) حضور ﷺ خاتم النبیین نے ہجرت سے پہلے خراب میں کیا رکھا تھا؟
(ii) سراقہ بن جشم کے کیا مقاصد تھے؟
- (iii) سائٹس کا علم کس طرح حاصل ہوتا ہے؟
(iv) انسان نے لکھنا پڑھنا کب سیکھا؟
- (v) اسکندریہ کی لائبریری میں کیا محفوظ تھا؟
(vi) کیا مرزا ظاہر دار بیگ نے اپنا چارہ درست بتایا تھا؟
- (vii) مرزا کلیم کو جس مسجد میں ٹھہرایا اس کی کیا کیفیت تھی؟
(viii) اکبر کی خواہگاہ کی آرائش کن کن چیزوں سے کی گئی تھی؟
- (ix) اکبر نے اندولہ کو کون سی سزا دیے کا فیصلہ کیا؟
(x) عبدالحق کے گلے میں کس چیز کا پار تھا؟
- (xi) ہنزہ پاکستان کے کس حصے میں واقع ہے؟
(xii) مولانا فخر علی خان دفتر میں سب لوگوں کو کیوں اکٹھا کر لیتے تھے؟
- (xiii) کئی صاحب کا پورا نام کیا تھا؟
(xiv) پروفیسر رشید احمد صدیقی نے علامہ اقبال کی وفات کی خبر کہاں سنی؟
- (xv) اللہ تعالیٰ کی داستان کون سناتا ہے؟

حصہ سوم (کل نمبر 32)

(1+1+4=6)

سوال نمبر ۳:

سہتی اور مصنف کا حوالہ دیتے ہوئے کسی ایک جڑو کی تعریف کیجیے:

(الف)۔

صبح کو قریش کی آنکھیں کھلیں تو بیگ پر آنحضرت ﷺ خاتم النبیین کے بجائے حضرت علیؓ تھے، قاتلوں نے آپ کو پکڑ کر حرم میں لے جا کر قہوڑی دیر جمبوس رکھا، اور چھوڑ دیا، پھر آنحضرت ﷺ خاتم النبیین کی تلاش میں نکلے۔

(ب)۔

قرآن یہ بتا رہا ہے، ہیں کہ سائٹس ترقی کی یہ گاڑی آنے والی تھی نہیں ہے۔ اکیسویں صدی میں بھی یہ چلتی چلی جائے گی۔

(1+1+5=7)

سوال نمبر ۴:

کسی ایک جڑو کی تعریف کیجیے۔ شاعر کا نام اور کلام کا عنوان بھی لکھیں:

الف۔

میں اس کو کعبہ دہت خانے میں کیوں ڈھونڈنے لگوں
مرے ٹوٹے ہوئے دل ہی کے اندر ہے مقام اس کا
سرپا معصیت میں ہوں، سرپا مغفرت وہ ہے
خطا کو شہ روش میری، خطا پوشی ہے کام اس کا

ب۔

ٹھوکریں کھا کر کچھ گنگنائی جھوٹی
سرخوشی میں گنگرودوں کی تال پر گاتی ہوئی
رات کی تاریکیوں میں جھلملاتی کاپٹی
پڑیوں پر درد تک سہاگ چھلکائی ہوئی

(2+2=4)

سوال نمبر ۵:

مندرجہ ذیل میں سے کوئی سے دو سوالوں کے جوابات لکھیے:

(i) استعارہ سے کیا مراد ہے؟

(ii) مقطع سے کیا مراد ہے؟

(iii) تشبیہ سے کیا مراد ہے؟

(05)

سوال نمبر ۶:

مندرجہ ذیل میں سے کسی ایک عنوان پر مضمون لکھیں:

الف۔ ورزش کے فائدے ب۔ سائٹس کی ترقی

(05)

سوال نمبر ۷:

اپنے دوست کو امتحان میں کامیابی پر مبارکباد کا خط تحریر کیجیے۔

(05)

سوال نمبر ۸:

پر نکل کے نام نہیں معافی کی درخواست تحریر کیجیے۔



89

PAKISTAN STUDIES HSSC-II
(For Hearing Impaired Children)
SECTION - A (Marks 10)

Time allowed: 15 Minutes

Version Number 4 0 5 3 1

Note: Section - A is compulsory. All parts of this section are to be answered on the separately provided OMR Answer Sheet which should be completed in the first 15 minutes and handed over to the Centre Superintendent. Deleting/overwriting is not allowed. Do not use lead pencil.

- Q. 1** Choose the correct answer A / B / C / D by filling the relevant bubble for each question on the OMR Answer Sheet according to the instructions given there. Each part carries one mark.
- 1) Quaid-e-Azam joined the Muslim League in:
A. 1906 AD B. 1908 AD
C. 1913 AD D. 1929 AD
 - 2) At the time of partition, there were _____ number of princely states in India.
A. 16 B. 200
C. 580 D. 680
 - 3) Balochistan province consists of _____ total.
A. 40% B. 44%
C. 80% D. 90%
 - 4) Islamabad is situated at the base of _____ hills.
A. Margalla B. Karakoram
C. Hindukush D. Himalayan
 - 5) In the 1973 Constitution _____ is declared as official religion of Pakistan.
A. Budhism B. Christianity
C. Islam D. None of these
 - 6) Senate and the National Assembly combine to constitute:
A. Supreme court B. Executive
C. Cabinet D. Parliament
 - 7) Prime Minister is constitutionally bound to include _____ of its cabinet ministers from the senate.
A. One third B. One fourth
C. Half D. None of these
 - 8) _____ people of Pakistan are Muslim.
A. 60% B. 80%
C. 90% D. 96%
 - 9) Mirza Sahiban is written by:
A. Shah Hussain B. Fazal Shah
C. Hafiz Barkhurdar D. Bully Shah
 - 10) New name of RCD is:
A. ECO B. PWD
C. CENTO D. SEATO

مطالعہ پاکستان (لازمی) ایچ ایس ایس سی-II

(برائے اطفال محروم سماعت و گویائی)



Version Number 4 0 5 3 1 (کل نمبر: 10)

وقت: 15 منٹ

نوٹ: حصہ اول ازلی ہے۔ اس کے جوابات الگ سے مہیا کی گئی اور (OMR) جوابی کارڈ پر دیے گئے ہیں۔ اس کو پیلے پندرہ منٹ میں مکمل کر کے ظم کر کے عوا کریں۔ کات کر دیا نہ لکھنے کی اجازت نہیں ہے۔
لیڈ پینل کا استعمال ممنوع ہے۔

سوال نمبر: مہیا کی گئی اور (OMR) جوابی کارڈ پر دیے گئے ہیں۔ اس کے مطابق ہر سوال کا درست جواب A/B/C/D منتخب کر کے حلقہ دارکہ (Bubble) پُر کریں۔ ہر جزو کا ایک نمبر ہے۔

- (1) قائد اعظمؒ میں سلیک میں شامل ہوئے۔

1908ء	B	1908ء	A
1929ء	D	1913ء	C
- (2) تقسیم کے وقت ہندوستان میں شاہی ریاستوں کی تعداد _____ تھی۔

200	B	16	A
680	D	580	C
- (3) صوبہ بلوچستان پاکستان کے _____ رہتے پر محیط ہے۔

44 فیصد	B	40 فیصد	A
90 فیصد	D	80 فیصد	C
- (4) اسلام آباد _____ کی پہاڑیوں کے دائیں میں واقع ہے۔

تراخیم	B	بارگد	A
تالیہ	D	ہندوکش	C
- (5) 1973ء کے آئین کے مطابق _____ کو پاکستان کا سرکاری مذہب قرار دیا گیا۔

عیسائیت	B	بدھت	A
ہندوت	D	اسلام	C
- (6) سینٹ اور ٹوی آسلی کو عمومی طور پر _____ کہا جاتا ہے۔


انتظامیہ	B	پیریکورٹ	A
پارلیمنٹ	D	کابینہ	C
- (7) وزیر اعظم اپنی کابینہ کے امراکم _____ وزیرینٹ سے لینے کا پابند ہے۔

ایک چوتھائی	B	ایک تہائی	A
پانچ	D	نصف	C
- (8) پاکستان کے _____ لوگ مسلمان ہیں۔

80 فیصد	B	60 فیصد	A
96 فیصد	D	90 فیصد	C
- (9) مرزا صاحبان _____ کی تصنیف ہے۔

فضل شاہ	B	شاہ حسین	A
بھٹہ شاہ	D	مظہر محمود رائے	C
- (10) آر۔سی۔ ڈی کا نیا نام _____ ہے۔

پی ڈی پی	B	ای کی او	A
سیٹو	D	سیٹو	C



PAKISTAN STUDIES HSSC-II

(For Hearing Impaired Children)

Time allowed: 2:15 Hours

Total Marks Sections B and C: 40

NOTE: Answer any eight parts from Section 'B' and any two questions from Section 'C' on the separately provided answer book. Write your answers neatly and legibly.

SECTION – B (Marks 24)

Q. 2 Answer any EIGHT parts. The answer to each part should not exceed 3 to 4 lines. (8 x 3 = 24)

- (i) Write one saying of Quaid-e-Azam regarding the rights of minorities.
- (ii) What objectives were set for the Muslim League at the time of its creation?
- (iii) From physical characteristics Pakistan can be divided into three major parts. What are those?
- (iv) Name the North-Western and Western mountain ranges.
- (v) What was the status of accountability during the period of Hazrat Umar (RA)?
- (vi) What do you know about Kot Digi?
- (vii) When and where was the Urdu language originated?
- (viii) What is I. T?
- (ix) What are the kinds of natural resources?
- (x) Describe three leading principles of Pakistan's foreign policy.

SECTION – C (Marks 16)

Note: Attempt any TWO questions. All questions carry equal marks. (2 x 8 = 16)

- Q. 3** Write a note on Kashmir issue.
- Q. 4** Why can only Urdu be the national language of Pakistan? Write down the distinctive features of Urdu language.
- Q. 5** Describe the significance of agriculture in Pakistan's economy.



مطالعہ پاکستان (لازمی) ایچ ایس ایس سی - II

(برائے اطفال محروم سماعت و گویائی)

کل نمبر حصہ دوم اور سوم: 40

وقت: 2:15 گھنٹے

نوٹ: حصہ دوم اور سوم کے سوالات کے جوابات پلیمہ سے دیوں گی جو اپنی کاپی پر دیں۔ حصہ دوم سے آٹھ (08) اجزاء اور حصہ سوم میں سے دو (2) سوال حل کیجئے۔ آپ کے جوابات صاف اور واضح ہونے چاہئیں۔

حصہ دوم (کل نمبر 24)

سوال نمبر 1: مندرجہ ذیل اجزاء میں سے آٹھ (08) کے تین سے چار سطروں تک محدود جوابات لکھیں: (8x3=24)

- (i) اقلیوں کے حقوق کے بارے میں تاہر انظم کا ایک قول نقل کیجئے۔
- (ii) قیام کے وقت مسلم لیگ کے لیے کن مقاصد کا تین یا کیا گیا؟
- (iii) طبعی لحاظ سے پاکستان کو کن تین بڑے حصوں میں تقسیم کیا جاسکتا ہے؟
- (iv) شمال مشرقی اور مشرقی سلسلے کے پہاڑوں کے نام لکھیں۔
- (v) حضرت عمرؓ کے نظام حکومت میں احتساب کی کیا کیفیت تھی؟
- (vi) کوٹ ڈبئی کے بارے میں آپ کیا جانتے ہیں؟
- (vii) اردو زبان کب اور کہاں وجود میں آئی؟
- (viii) آئی۔ ٹی سے کیا مراد ہے؟
- (ix) قدرتی وسائل کی تقسیم بیان کریں۔
- (x) پاکستان کی خارجہ پالیسی کے تین رہنما اصول بیان کریں۔

حصہ سوم (کل نمبر 16)

(2x8=16) کوئی سے دو سوال حل کیجئے۔ تمام سوالوں کے نمبر برابر ہیں۔

سوال نمبر 3: مسئلہ کشمیر پر نوٹ لکھیں۔

سوال نمبر 4: پاکستان کی قومی زبان اردو ہی کیوں ہو سکتی ہے؟ اردو زبان کی امتیازی خصوصیات بیان کیجئے۔

سوال نمبر 5: پاکستان کی معیشت میں زراعت کی اہمیت بیان کیجئے۔



COMPUTER SCIENCE HSSC-II


(For Hearing Impaired Children)

SECTION - A (Marks 10)

Time allowed: 20 Minutes

Version No 4 0 5 4 1

Note: Section - A is compulsory. All parts of this section are to be answered on the separately provided OMR Answer Sheet which should be completed in the first 20 minutes and handed over to the Centre Superintendent. Deleting/overwriting is not allowed. Do not use lead pencil.

- Q. 1 Choose the correct answer A / B / C / D by filling the relevant bubble for each question on the OMR Answer Sheet according to the instructions given there. Each part carries one mark.
- MS PowerPoint is an application program that provides facilities for creating:
A. Applications B. Presentations
C. Calculations D. Documents
 - Which of the following bar displays the program and presentation name?
A. Title Bar B. Menu Bar
C. Standard tool bar D. Drawing bar
 -  this button is used for:
A. Note View B. Normal View
C. Slide Show View D. Slide Sorted View
 - The horizontal lines of cells dimension in a spreadsheet are called:
A. Dimensions B. Cells
C. Rows D. Columns
 - The main window in a spreadsheet is called:
A. Workbook B. Worksheet
C. Account book D. Area
 - A built-in formula is known as:
A. Procedure B. Update
C. Calculate D. Function
 - Which of the following key fields is used in relationship tables whose value matches a primary key in the other table?
A. Candidate key B. Secondary key
C. Foreign key D. Alternate key
 - An attribute is also called:
A. Record B. Field
C. Entity D. Relation
 - We have _____ paper orientations in Corel Draw.
A. 5 B. 2
C. 3 D. 4
 - Corel draw is a _____ based drawing application package.
A. Photo Paint B. Bitmap
C. Vector D. Scalar



COMPUTER SCIENCE HSSC-II

(For Hearing Impaired Children)

Time allowed: 2:40 Hours

Total Marks Sections B and C: 40

NOTE: Answer any eight parts from Section 'B' and any two questions from Section 'C' on the separately provided answer book. Write your answers neatly and legibly.

SECTION – B (Marks 24)

Q. 2 Attempt any EIGHT parts. The answer to each part should not exceed 3 to 5 lines. (8 x 3 = 24)

- (i) What is a presentation?
- (ii) What is MS PowerPoint?
- (iii) What is a slide in MS PowerPoint?
- (iv) Describe Formula bar of MS Excel.
- (v) What are functions in MS Excel?
- (vi) Enlist any three features of MS Excel.
- (vii) What is relationship in MS Access?
- (viii) Briefly describe DBMS.
- (ix) What is data?
- (x) Briefly explain Corel Draw.
- (xi) Which type of drawing is created in Corel Draw?

SECTION – C (Marks 16)

Note: Attempt any TWO questions. All questions carry equal marks. (2 x 8 = 16)

- Q. 3 Describe how functions are used in MS Excel with examples.
- Q. 4 Describe Primary and Secondary keys in MS Access.
- Q. 5 Write detailed notes on following topics. (Any two)
- a. Slide Animation
 - b. Multimedia
 - c. Slide show view



FINE ARTS HSSC-II
(For Hearing Impaired Children)

SECTION - A (Marks 06)

Time allowed: 15 Minutes

Version No. 4 0 5 6 1

Note: Section - A is compulsory. All parts of this section are to be answered on the separately provided OMR Answer Sheet which should be completed in the first 15 minutes and handed over to the Centre Superintendent. Deleting/overwriting is not allowed. Do not use lead pencil.

Q. 1 Choose the correct answer A / B / C / D by filling the relevant bubble for each question on the OMR Answer Sheet according to the instructions given there. Each part carries one mark.

- 1) During which period King Ashoka ruled?
A. Gupta
B. Post Gupta
C. Morian
D. Kushan
- 2) Which Mughal Emperor constructed Badshahi Mosque?
A. Humayun
B. Akber
C. Baber
D. Aurang Zeb Alamgir
- 3) Which marble was used in Greek architecture?
A. Blue Marble
B. White Marble
C. Yellow Marble
D. Red Marble
- 4) Roman Sculpture can be divided in how many parts?
A. Three
B. Four
C. Five
D. Six
- 5) Roman architecture is highly influenced by _____ architecture.
A. Gandhara
B. Bengal
C. Mughal
D. Greek
- 6) Emperor: Jahangir built:
A. Masjid Wazir Khan
B. Shalamar Bagh
C. Shahi Qila
D. Hiran Meenar



فائن آرٹ ایچ ایس ایس سی -
(برائے اطفال محروم سماعت و گویشی)

Version No. 4 0 5 6 1

حصہ اول (کل نمبر 06)

وقت: 15 منٹ

نوٹ: حصہ اول لازمی ہے۔ اس کے جوابات الگ سے مہیا کی گئی اور ایم آر (OMR) جوبلی کاپی پر دیں۔ اس کو پہلے پندرہ منٹ میں مکمل کر کے حوالے کریں۔ گالت کردہ بارہ لکھنے کی اجازت نہیں۔ لپے پھل کا استعمال ممنوع ہے۔

سوال نمبر 1: مہیا کی گئی اور ایم آر (OMR) جوبلی کاپی پر دی گئی ہدایات کے مطابق ہر سوال کا درست جواب A/B/C/D منتخب کر کے حلقہ دائرہ (Bubble) پر کریں۔ ہر جزو کا ایک نمبر ہے۔

- (1) کس عہد میں بادشاہ اشوکا نے حکومت کی؟
- | | |
|---|----------|
| A | گپتا |
| B | پست گپتا |
| C | مورین |
| D | کشان |
- (2) کس مغل بادشاہ نے بادشاہی مسجد تعمیر کروائی؟
- | | |
|---|------------------|
| A | ہمایوں |
| B | اکبر |
| C | بار |
| D | اورنگزیب عالمگیر |
- (3) یونانی تعمیرات میں _____ استعمال ہوتا تھا۔
- | | |
|---|---------------|
| A | نیا سنگ مرمر |
| B | سفید سنگ مرمر |
| C | پیلا سنگ مرمر |
| D | سرخ سنگ مرمر |
- (4) رومن مجسمہ سازی کو کتنے حصوں میں تقسیم کیا جاتا ہے؟
- | | |
|---|------|
| A | تین |
| B | چار |
| C | پانچ |
| D | چھ |
- (5) رومی فن تعمیر پر _____ فن تعمیر کا بہت اثر ہے۔
- | | |
|---|---------|
| A | گندھارا |
| B | بنگال |
| C | مغل |
| D | یونانی |
- (6) شہنشاہ جہانگیر نے کون سی عمارت تعمیر کروائی؟
- | | |
|---|---------------|
| A | مسجد وزیر خان |
| B | شائیر بارغ |
| C | شاہی قلعہ |
| D | ہرن بیار |



94

FINE ARTS HSSC-II (For Hearing Impaired Children)

Time allowed: 2:15 Hours

Total Marks Sections B and C: 24

NOTE: Answer any seven parts from Section 'B' and any two questions from Section 'C' on the separately provided answer book. Write your answers neatly and legibly.

SECTION – B (Marks 14)

Q. 2 Attempt any SEVEN parts. The answer to each part should not exceed 2 to 4 lines. (7 x 2 = 14)

- (i) Write a short note on "Ionic Order".
- (ii) Write a short note on "Mughal Art of painting".
- (iii) Write a short note a "Morian Period" in Gandhara Art.
- (iv) Write a short note on "Badshahi Mosque (Lahore)".
- (v) Write a short note on any one pottery of Greek.
- (vi) Write briefly about "Gandhara Civilization".
- (vii) Write a short note on "Roman Temples".
- (viii) Write a short note on "Gandhara Architecture".
- (ix) Which Mughal Emperor built "Badshahi Mosque" and in which city?
- (x) Write a short note on "Roman Sculpture".

SECTION – C (Marks 10)

Note: Attempt any TWO questions. All questions carry equal marks. (2 x 5 = 10)

- Q. 3** Write "Specialities or Characteristic" of Roman Sculpture.
- Q. 4** Draw the "Stupa", label its parts and explain.
- Q. 5** How do the objects found in Harrappa, reflect their culture and civilization?



کل نمبر حصہ دوم اور سوم: 24

وقت: 2:15 گھنٹے

نوٹ: حصہ دوم اور سوم کے سوالات کے جوابات علیحدہ سے دینا کی جوائی کاپی پر دیں۔ حصہ دوم کے سات (07) اجزاء جبکہ حصہ سوم میں سے کوئی سے دو (02) سوالات حل کریں۔ آپ کے جوابات صاف اور واضح ہونے چاہئیں۔

حصہ دوم (کل نمبر 14)

(7x2 = 14)

سوال نمبر ۲: مندرجہ ذیل میں سے کوئی سے سات (07) اجزاء کے دو سے چار سطروں تک محدود جوابات لکھیں۔

- (i) ایک آرڈر پر مختصر نوٹ تحریر کریں۔
- (ii) مثل آرٹ آف پیٹنگ پر مختصر نوٹ تحریر کریں۔
- (iii) گندھارا آرٹ میں ”نمو رین“ عہد پر مختصر نوٹ تحریر کریں۔
- (iv) بادشاہی مسجد (لاہور) پر مختصر نوٹ تحریر کریں۔
- (v) یونان کی کئی ایک برتن پر مختصر نوٹ تحریر کریں۔
- (vi) گندھارا تہذیب کے لوگوں کے بارے میں مختصر تحریر کریں۔
- (vii) رومن مندروں کی تعمیر پر مختصر نوٹ تحریر کریں۔
- (viii) گندھارا فن تعمیر پر نوٹ تحریر کریں۔
- (ix) کس مثل بادشاہ نے ”بادشاہی مسجد“ تعمیر کروائی اور کس شہر میں تعمیر کروائی؟
- (x) رومن مجسمہ سازی پر مختصر نوٹ تحریر کریں۔

حصہ سوم (کل نمبر 10)

(2x5 = 10)

(کوئی سے دو سوال حل کیجئے۔ تمام سوالوں کے نمبر برابر ہیں۔)

- سوال نمبر ۳: ”رومن مجسمہ سازی“ کی اقسام اور خصوصیات تحریر کریں۔
- سوال نمبر ۴: اسٹوپا کی تصویر بنا کر اس کے مختلف حصوں کو لیبل کریں اور ان کی وضاحت کریں۔
- سوال نمبر ۵: ہڑپہ کی کھدائی سے ملنے والی اشیاء کس طرح اپنی تہذیب و ثقافت کی عکاسی کرتی ہیں؟



HEALTH AND PHYSICAL EDUCATION HSSC-II
(For Hearing Impaired Children)

SECTION - A (Marks 12)

Time allowed: 20 Minutes

Version No 4 0 5 7 1

Note: Section - A is compulsory. All parts of this section are to be answered on the separately provided OMR Answer Sheet which should be completed in the first 20 minutes and handed over to the Centre Superintendent. Deleting/overwriting is not allowed. Do not use lead pencil.

Q. 1 Choose the correct answer A / B / C / D by filling the relevant bubble for each question on the OMR Answer Sheet according to the instructions given there. Each part carries one mark.

- 1) What is the main ingredient of drinks?
A. Sugar
B. Lemon
C. Water
D. Pomegranate
- 2) What is the length of Runway in high Jump?
A. 12 metre
B. 13 metre
C. 15 metre
D. 14 metre
- 3) 400 metre race starts from _____ start.
A. Crouch
B. Flying
C. Standing
D. Jumping
- 4) How much time is given to an Athlete to complete a jump in the high jump?
A. 1 minute
B. 2 minutes
C. 3 minutes
D. 4 minutes
- 5) How many components of balance diet are there?
A. 4
B. 6
C. 8
D. 10
- 6) The track in 400 metres race consists of _____ lanes.
A. 6
B. 7
C. 5
D. 8
- 7) What is the weight of cross-bar in high jump?
A. 5 kg
B. 2 kg
C. 7 kg
D. 4 kg
- 8) How many kinds of Proteins are there?
A. 2
B. 3
C. 4
D. 5
(For Boys)
- 9) What is the length of Hockey ground?
A. 100 yard
B. 80 yard
C. 110 yard
D. 85 yard
(For Girls)
- 10) When was International Badminton Federation formed?
A. 1934
B. 1944
C. 1954
D. 1964
(For Boys)
What is the shape of Hockey ground?
A. Square
B. Rectangle
C. Round
D. Triangle
(For Girls)
What is length of Badminton Court?
A. 40 feet
B. 42 feet
C. 44 feet
D. 46 feet
(For Boys)
- 11) In which year Hockey association was formed?
A. 1989
B. 1988
C. 1887
D. 1886
(For Girls)
How many feathers are in a Badminton Shuttle?
A. 14
B. 16
C. 18
D. 20
- 12) Deficiency of which vitamin causes night blindness?
A. Vitamin A
B. Vitamin B
C. Vitamin C
D. Vitamin D

صحیح و جسمانی تعلیم ایچ۔ ایس ایس سی - 11
(برائے اطفال محروم سماعت و گویناسی)



Version No 4 0 5 7 1

حصہ اول (کل نمبر 12)

وقت: 20 منٹ

نوٹ: حصہ اول لازمی ہے۔ اس کے جوابات الگ سے مہیا کی گئی ادوایم آر (OMR) جو اپنی اپنی پریڈ۔ اس کو پہلے میں منٹ میں مکمل کر کے نامہ کر کے حوالے کریں۔ کالٹ کر دوبارہ لکھنے کی اجازت نہیں۔ پوچھنے کا استعمال ممنوع ہے۔

سوال نمبر 1: مہیا کی گئی ادوایم آر (OMR) جو اپنی اپنی پریڈ کی ہدایات کے مطابق ہر سوال کا درست جواب A/B/C/D منتخب کر کے حلقہ دائرہ (Bubble) پر کریں۔ ہر جزو کا ایک نمبر ہے۔

- (1) مشروبات کا ہم جزو کیا ہے؟
A شکر B لیوں C پانی D اتار
- (2) ہائی وے کے دوڑنے کے راستے (runway) کی کم از کم لمبائی کتنی ہوتی ہے؟
A 12 میٹر B 13 میٹر C 15 میٹر D 14 میٹر
- (3) 400 میٹر دوڑ کا آغاز کس شارٹ سے کیا جاتا ہے؟
A کراؤچ B فلاگ C سٹیڈنگ D چیمپ
- (4) اوپن جھلانگ لگانے کے لیے کھلاڑی کو چھپ مکمل کرنے کے لیے کتنا وقت دیا جاتا ہے؟
A 1 منٹ B 2 منٹ C 3 منٹ D 4 منٹ
- (5) متوازن غذا کے کتنے اجزاء ہوتے ہیں؟
A 4 B 6 C 8 D 10
- (6) 400 میٹر دوڑ کا ٹریک کتنی لمبائی پر مشتمل ہوتا ہے؟
A 6 B 7 C 5 D 8
- (7) اوپن جھلانگ میں کس بار کا وزن کتنا ہوتا ہے؟
A 5 کلوگرام B 2 کلوگرام C 7 کلوگرام D 4 کلوگرام
- (8) لحمیات (Proteins) کی کتنی اقسام ہیں؟
A 2 B 3 C 4 D 5
- (9) ہائی گرافٹ کی لمبائی کتنی ہوتی ہے؟
A 100 گز B 80 گز C 110 گز D 85 گز
- (10) بین الاقوامی پیڈیشن فیڈریشن کا قیام کب عمل میں آیا؟
A 1934 B 1944 C 1954 D 1964
- (11) پیڈیشن کورٹ کی لمبائی کتنی ہوتی ہے؟
A 40 فٹ B 42 فٹ C 44 فٹ D 46 فٹ
- (12) کس دماغ کی کمی سے رات کی تاریکی میں دکھائی نہیں دیتا؟
A وٹامن اے B وٹامن بی C وٹامن سی D وٹامن ڈی



HEALTH AND PHYSICAL EDUCATION HSSC-II

(For Hearing Impaired Children)

Time allowed: 2:40 Hours

Total Marks Sections B and C: 48

NOTE: Answer any ten parts from Section 'B' and any two questions from Section 'C' on the separately provided answer book. Write your answers neatly and legibly.

SECTION – B (Marks 30)

Q. 2 Attempt any TEN parts.

(10 x 3 = 30)

- (i) Write down the names of components of food.
- (ii) Write any three fouls in the High Jump?
- (iii) Write note on Voluntary Muscles.
- (iv) Write down any three advantages of Protein in human body.
- (v) What is the first aid given in case of electric shock?
- (vi) What is meant by first Aid.
- (vii) What is meant by Balance diet?
- (viii) Draw a Sketch of the track of 400 metre race and indicate the staggers in it.
- (ix) Write down the principles of first Aid.
- (x) Write down any three rules and regulations of 400 metre race.
- (xi) What actions are not allowed in Hockey play? (For Boys)
- (xii) What is the measurement of Net in the Badminton. (For Girls)
- (xiii) What is striking circle? (For Boys)
- (xiv) Write any three service faults/fouls in Badminton. (For Girls)
- (xv) Write note on Hockey Stick? (For Boys)
- (xvi) What are the techniques of the play in Badminton? (For Girls)
- (xvii) Write down the kinds of High Jump.
- (xviii) What are the effects of drugs on human body?

SECTION – C (Marks 18)

Note: Attempt any TWO questions.

(2 x 9 = 18)

- Q. 3 Describe the qualities of a player.
- Q. 4 Write rules and regulations of High Jump.
- Q. 5 Describe the types of Muscles and also write their benefits.



گل نمبر حصہ دوم اور سوم: 48

وقت: 2:40 گھنٹے

نوٹ: حصہ دوم اور سوم کے سوالات کے جوابات لطیفہ سے مہیا کی جو اپنی کاپی پر دیں۔ حصہ دوم کے دس (10) اجزاء جبکہ حصہ سوم میں سے کوئی سے دو (02) سوالات حل کریں۔ آپ کے جوابات صاف اور واضح ہونے چاہئیں۔

حصہ دوم (گل نمبر 30)

(10x3 = 30)

سوال نمبر ۲: مندرجہ ذیل میں سے کوئی سے دس (10) اجزاء کے مختصر جوابات لکھیں۔

- (i) خوراک کے اہم اجزاء کے نام تحریر کریں۔
- (ii) اوپنی چھلانگ کی تین ناکامیاں (Fouls) تحریر کریں۔
- (iii) ارادی عضلات پر نوٹ لکھیں۔
- (iv) لمبیات کے انسانی جسم میں کوئی سے تین فوائد تحریر کریں۔
- (v) کرنٹ لگنے کی صورت میں ابتدائی طبی امداد تحریر کیجیے۔
- (vi) ابتدائی طبی امداد سے کیا مراد ہے؟
- (vii) متوازن خوراک سے کیا مراد ہے؟
- (viii) 400 میٹر دوڑ کے ٹریک کا خاکہ بنائیں اور اس میں نہیے ظاہر کریں۔
- (ix) ابتدائی طبی امداد کے بنیادی اصول تحریر کریں۔
- (x) 400 میٹر دوڑ کے کوئی سے تین قوانین و ضوابط تحریر کریں۔
- (xi) ہاکی کے کھیل میں کن امور کی اجازت نہیں؟
- (xii) بیڈ مینٹن کی پیمائش لکھیں۔
- (xiii) سزائنگ سرکل کس کو کہتے ہیں؟
- (xiv) بیڈ مینٹن میں سروں کے کوئی سے تین قائل تحریر کریں۔
- (xv) ہاکی اسکے پر نوٹ لکھیں۔
- (xvi) بیڈ مینٹن کی ٹینسکی مہارت تین کون کون سی ہیں؟
- (xvii) اوپنی چھلانگ کی اقسام لکھیں۔
- (xviii) انسانی جسم پر منتفیات کے کیا اثرات پڑتے ہیں؟

حصہ سوم (گل نمبر 18)

(2x9 = 18)

کوئی سے دو سوال حل کیجیے۔ تمام سوالوں کے نمبر برابر ہیں۔

- سوال نمبر ۳: کھلاڑیوں کے اوصاف بیان کریں۔
- سوال نمبر ۴: اوپنی چھلانگ کے قواعد و ضوابط تحریر کریں۔
- سوال نمبر ۵: عضلات کی اقسام بیان کریں۔ نیز انکے فوائد تحریر کریں۔



حصہ اول لادری ہے۔ اس کے جوابات الگ سے مہیا کی گئی ادائم آرم (OMR) جوبانی کاپی پر دیں۔ اس کو پہلے میں منٹ میں مکمل کر کے نام کر کے حوالے کریں۔ کاٹ کر دوبارہ لکھنے کی اجازت نہیں۔ لیٹر چل کا استعمال ممنوع ہے۔

نمبر: مہیا کی گئی ادائم آرم (OMR) جوبانی کاپی پر دی گئی ہدایات کے مطابق ہر سوال کا درست جواب A/B/C/D منتخب کر کے منطقتہ دائرہ (Bubble) پر کریں۔ ہر جزو کا ایک نمبر ہے۔

(1) خوراک _____ کے لیے لی جاتی ہے۔

تھوڑا سا اور توانائی A

بیل جوں بڑھانے B

خوشی C

نیر D

(2) خوراک کے غذائی کردہ _____ ہیں۔

آٹھ A

چھ B

چار C

تین D

(3) مسمر افراد کو _____ غذا دینی چاہیے۔

ہلکی A

تھیل B

گرم C

ٹھنڈی D

(4) مریض کی غذا _____ ہونی چاہیے۔

ٹھوس A

متوازن B

چکنی C

مصالحہ دار D

(5) کاربوہائیڈریٹ حاصل ہوتے ہیں۔

گوشت سے A

شہدے B

چینی سے C

نمک سے D

(6) شب کو ری کی بیماری _____ کی کمی سے لاحق ہوتی ہے۔

وٹامن K A

وٹامن D B

وٹامن A C

وٹامن C D

(7) تازہ اندازہ _____

لگا ہوتا ہے A

پانی پر تیرتا ہے B

خوشبودار ہوتا ہے C

بھاری ہوتا ہے D


(8) لباس کا شخصیت کے ساتھ _____ تعلق ہے۔

لگا A

گہرا B

معمولی C

کم D



98

OUTLINES OF HOME ECONOMICS HSSC-II (For Hearing Impaired Children)

Time allowed: 2:40 Hours

Total Marks Sections B and C: 32

NOTE: Answer any five parts from Section 'B' and any two questions from Section 'C' on the separately provided answer book. Write your answers neatly and legibly.

SECTION – B (Marks 20)

Q. 2 Attempt any FIVE parts.

(5 x 4 = 20)

- (i) What are food nutrients? Write down names of any four nutrients.
- (ii) What are the sources of protein?
- (iii) Write any four functions of vitamins in our body.
- (iv) What is meant by food list?
- (v) What is good fitting?
- (vi) Write the names and functions of any two parts of sewing machine.
- (vii) What are food groups?

SECTION – C (Marks 12)

Note: Attempt any TWO questions.

(2 x 6 = 12)

- Q. 3** What are the functions of protein in our body? Explain in detail.
- Q. 4** Explain the principles of cooking vegetables.
- Q. 5** What are the methods for food serving? Explain in detail.

آؤٹ لائن اف ہوم اکنامکس ایچ۔ ایس۔ سی۔ II

(برائے اطفال محروم سماعت و گویائی)



گل نمبر حصہ دوم اور سوم: 32

وقت: 2:40 گھنٹے

نوٹ: حصہ دوم اور سوم کے سوالات کے جوابات مطبوعہ سے مہیا کی گئی جو اپنی کاپی پر دیں۔ حصہ دوم کے پانچ (5) اجزاء جبکہ حصہ سوم میں سے کوئی سے دو (02) سوالات حل کریں۔ آپ کے جوابات صاف اور واضح ہونے چاہئیں۔

حصہ دوم (کل نمبر 20)

(5x4 = 20)

سوال نمبر ۲:

مندرجہ ذیل میں سے کوئی سے پانچ (05) اجزاء کے مختصر جوابات لکھیں۔

- (i) غذائی اجزاء سے کیا مراد ہے؟ چار غذائی اجزاء کے نام لکھیں۔
- (ii) پروٹین کے ذرائع بیان کریں۔
- (iii) دماغ کے ہمارے جسم میں کوئی چار افعال بیان کریں۔
- (iv) فہرست طعام سے کیا مراد ہے؟
- (v) اچھی ہنگام سے کیا مراد ہے؟
- (vi) سلائی مشین کے دو پرزوں کے نام اور کام لکھیں۔
- (vii) غذائی گروہ سے کیا مراد ہے؟

حصہ سوم (کل نمبر 12)

(2x6 = 12)

(کوئی سے دو سوال حل کیجئے۔ تمام سوالوں کے نمبر برابر ہیں۔)

سوال نمبر ۳: پروٹین ہمارے جسم میں کیا کام سرانجام دیتے ہیں؟ تفصیل سے لکھیں۔

سوال نمبر ۴: سبزیاں پکانے کے اصول بیان کریں۔

سوال نمبر ۵: کھانا پیش کرنے کے کون کون سے طریقے ہیں؟ تفصیل سے لکھیں۔